



# موسسه آموزشی راه تازه کودکان دنیا

آمادگی و دبستان دفترانه غیردولتی

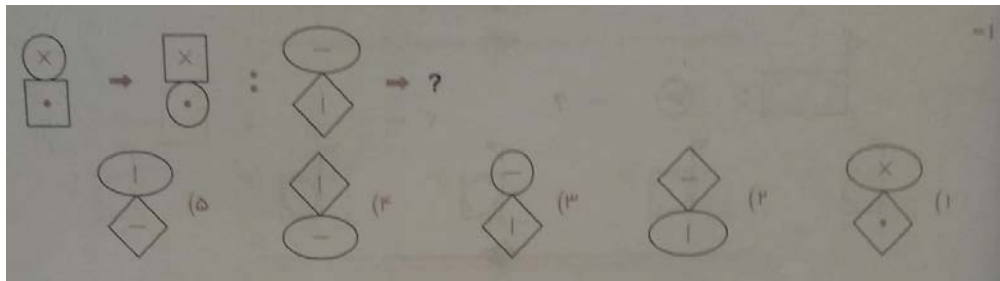
سرگوداش نو

نام و نام خانوادگی:


استعداد تحلیلی

پایه ششم

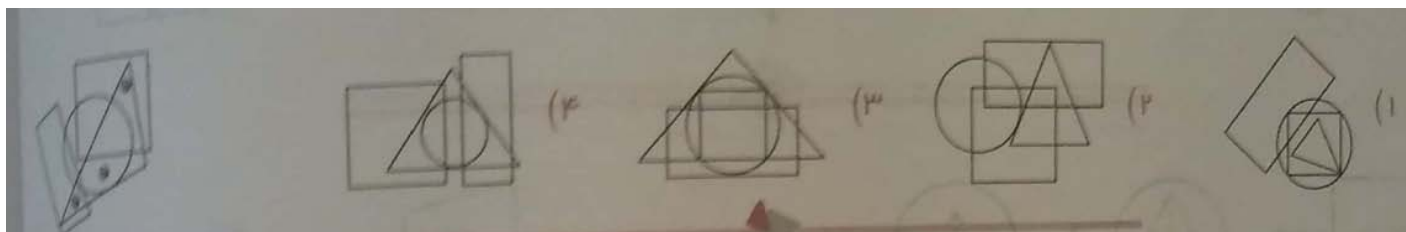
۱- اجرای قاعده در شکل ها (ماشین های ورودی و خروجی تصویری)



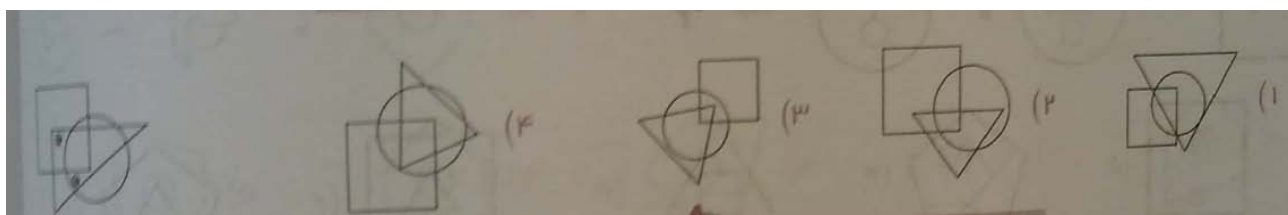
۲ -



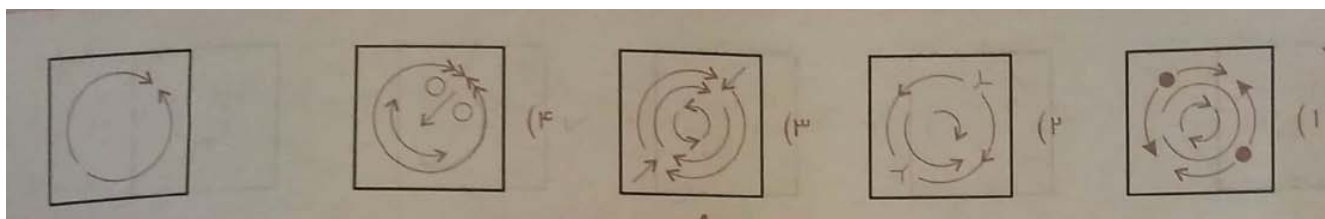
۳- در هر یک از سوالات زیر در کدام گزینه می توان نقطه ها را در جایی قرار داد که جایگاه آن ها نسبت به شکل ها ، همانند تصویر داده شده باشد .



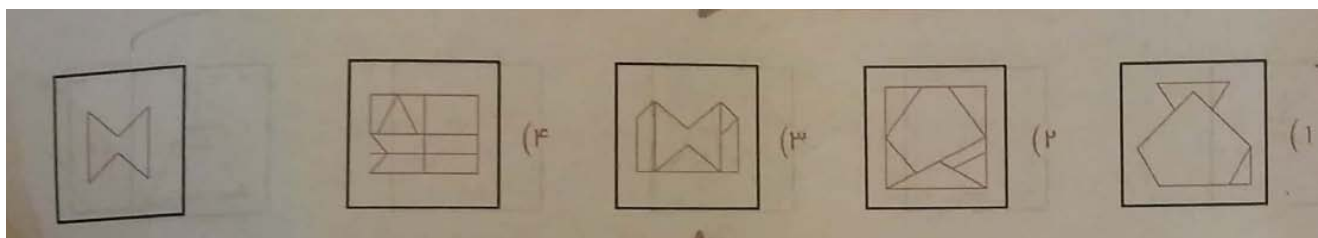
۴ -



۵- در هر یک از سوالات زیر شکل سمت چپ در کدام گزینه پنهان شده است ؟



۶ -



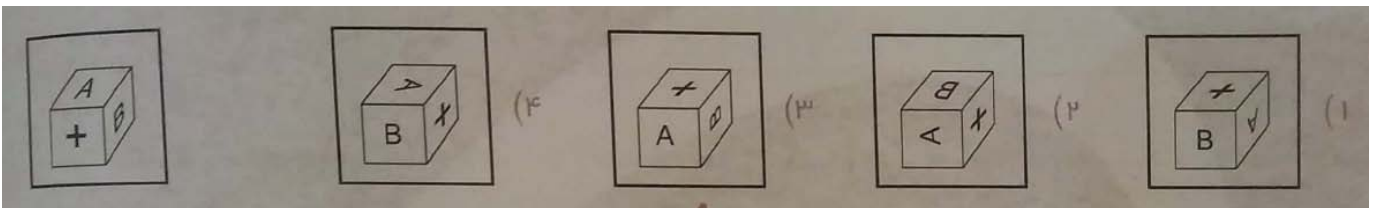
۷- در هر یک از اشکال زیر چند مثلث وجود دارد؟



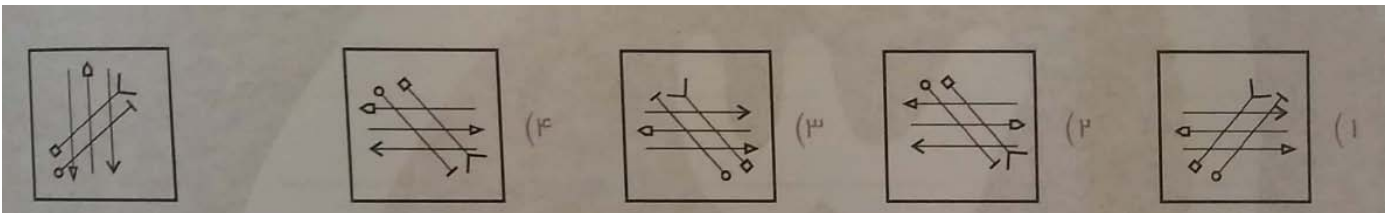
- ۸



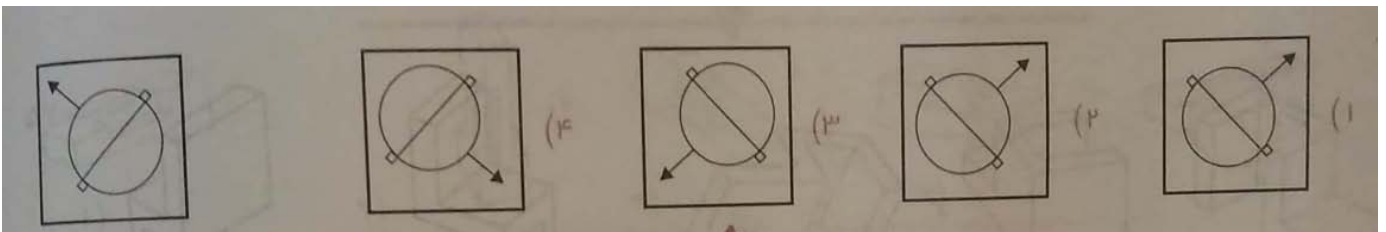
۹- در هر یک از سوالات زیر کدام مورد از دوران شکل سمت چپ حاصل می شود؟



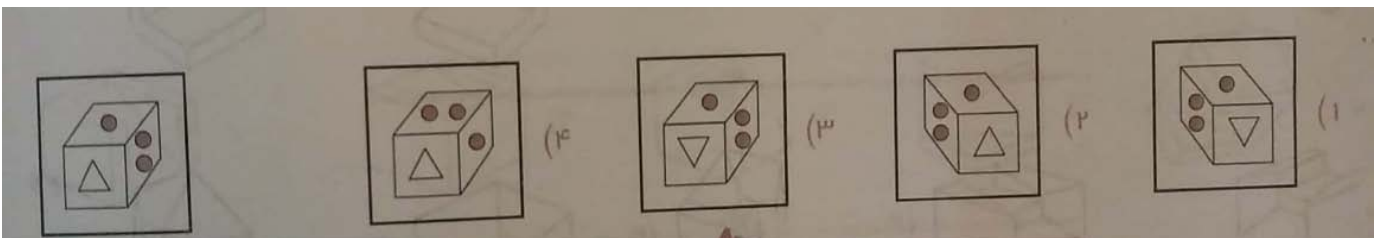
- ۱۰



۱۱- در هر یک از سوالات زیر تصویر شکل سمت چپ در آینه کدام گزینه است؟



- ۱۲



۱۳- در هر یک از اشکال زیر به جای علامت سوال کدام عدد را باید قرار داد؟



۱۷	۸	۶
۳	۸	۱۲
۱	۵	?

۵ (۲)      ۳ (۱)  
۷ (۴)      ۶ (۳)

۱۵- در هر یک از سوالات زیر اگر کاغذ شفاف سمت چپ را از روی خط تا خطچین تا کنیم شکل حاصل شبیه کدام یک از گزینه ها خواهد بود؟

(۴)      (۳)      (۲)      (۱)

(۴)      (۳)      (۲)      (۱)

۱۷- در هر یک از سوالات با توجه به اشکال سمت چپ ، مشخص کنید کدام گزینه مربوط به شکل مشخص شده است ؟

QU (۲)      SU (۱)  
QT (۴)      SR (۳)

KP (۲)      OM (۱)  
OP (۴)      NP (۳)

۱۹- ساعت :

۹ (۲)      ۸ (۱)  
۱۱ (۴)      ۱۰ (۳)

۵ (۲)      ۸ (۱)  
۷ (۴)      ۶ (۳)